

BACCALAURÉAT GÉNÉRAL

SESSION 2006

ÉPREUVE : **PHYSIQUE-CHIMIE – Série S**

DURÉE DE L'ÉPREUVE : 3 h 30 – COEFFICIENT : 8

ENSEIGNEMENT DE SPÉCIALITÉ

L'USAGE DE LA CALCULATRICE EST AUTORISÉ

Ce sujet comporte trois exercices de PHYSIQUE-CHIMIE présentés sur 13 pages numérotées de 1/13 à 13/13 y compris celle-ci.

Les pages annexes 11/13, 12/13 et 13/13 sont à rendre avec la copie après avoir été complétées.

Le candidat doit traiter les trois exercices, qui sont indépendants les uns des autres :

EXERCICE I	:	LA LOGAN AU BANC D'ESSAI	9 points
EXERCICE II	:	TENEUR EN CO ₂ D'UN VIN	3 points
EXERCICE III	:	DOSAGES D'UNE SOLUTION D'ACIDE ASCORBIQUE	4 points

EXERCICE I : LA LOGAN AU BANC D'ESSAI (9 points)

La Dacia Logan, conçue par le constructeur français Renault est produite au départ en Roumanie. Elle a fait la une de l'actualité lors de son lancement commercial : elle était en effet présentée comme « la voiture à 5000 euros ». Même si son prix fut finalement plus élevé que prévu, les journalistes automobiles étaient impatients d'évaluer cette voiture d'un nouveau genre.

L'exercice propose de détailler certains tests routiers effectués par les essayeurs d'un magazine automobile et d'étudier un composant du système d'alimentation en gazole du moteur Diesel qui peut équiper la Logan.

Donnée : Accélération de la pesanteur : $g = 9,8 \text{ m.s}^{-2}$.

Les parties A et B sont indépendantes.

PARTIE A : Performances et comportement routier

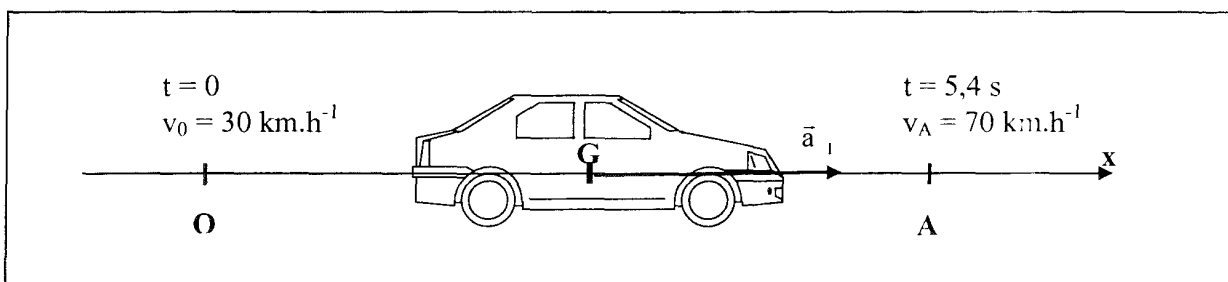
Les paragraphes I, II et III sont indépendants.

I - Mesures de reprises

Le test consiste à faire passer la voiture, en pleine accélération et sur le deuxième rapport de la boîte de vitesses, de 30 km.h^{-1} à 70 km.h^{-1} sur une portion de circuit rectiligne et horizontale. On mesure alors le temps nécessaire à cette accélération, ce qui donne une bonne indication de la capacité du véhicule à s'insérer et à évoluer dans le trafic routier.

Résultat du test d'accélération donné par le magazine : « passage de 30 km.h^{-1} à 70 km.h^{-1} en $5,4 \text{ s}$ ».

1. Le vecteur accélération est supposé constant pendant tout le mouvement ; sa norme est notée a_1 . Le schéma ci-dessous donne les différentes conventions utilisées. L'origine des temps est choisie à l'instant où le centre d'inertie G du véhicule passe au point O avec la vitesse $v_0 = 30 \text{ km.h}^{-1}$.



- Donner la relation entre le vecteur accélération \vec{a}_1 et le vecteur vitesse \vec{v} du centre d'inertie G du véhicule. En déduire l'équation horaire de la vitesse du centre d'inertie du véhicule $v(t)$ en fonction de a_1 , v_0 et t .
- En utilisant le résultat du test d'accélération, montrer que la valeur de l'accélération a_1 du véhicule en unités SI est $a_1 = 2,1 \text{ m.s}^{-2}$.

2. a) Établir l'équation horaire de la position $x(t)$ du centre d'inertie G en fonction des grandeurs de l'énoncé.
- b) En déduire la distance D parcourue par la Logan quand elle passe de 30 km.h^{-1} à 70 km.h^{-1} , en $5,4 \text{ s}$.

II - Virage sur une trajectoire circulaire

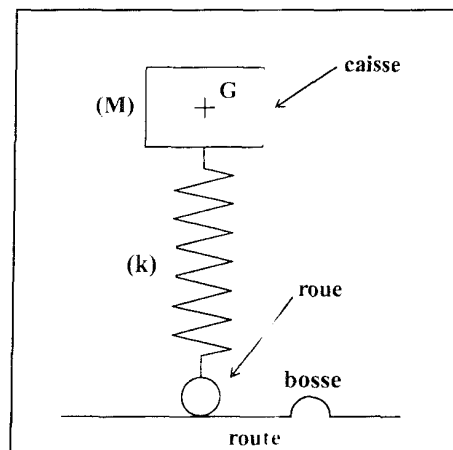
Un second test consiste à faire décrire à la voiture une trajectoire circulaire de rayon $R = 50 \text{ m}$. Ce test donne une bonne indication de la tenue de route du véhicule.

Une chronophotographie (en vue de dessus) représentant les positions successives du centre d'inertie G de la Logan pendant ce test est donnée en **annexe page 10 à rendre avec la copie** (Figure 1). La durée $\tau = 1,00 \text{ s}$ sépare deux positions successives du centre de masse G .

1. a) Exprimer les normes des vitesses v_3 et v_5 du centre d'inertie G aux points G_3 et G_5 en fonction des distances G_2G_4 , G_4G_6 et de la durée τ .
 - b) En utilisant la figure 1 montrer que ces vitesses v_3 et v_5 ont la même valeur d'environ 40 km.h^{-1} .
 - c) Représenter les vecteurs vitesse \vec{v}_3 et \vec{v}_5 sur la figure 1 (échelle : 1 cm pour 2 m.s^{-1}).
 - d) Représenter le vecteur $\Delta\vec{v}_4 = \vec{v}_5 - \vec{v}_3$.
2. a) Donner l'expression du vecteur accélération \vec{a}_4 au point G_4 , en fonction de $\Delta\vec{v}_4$ et τ .
 - b) Calculer la valeur de a_4 en unité SI.
3. a) Le constructeur qualifie cette accélération de « latérale ». Quel autre qualificatif utiliserait-on plutôt en physique ?
 - b) Peut-on considérer que, pour les passagers de la voiture, l'effet de cette accélération est négligeable devant celui de l'accélération de la pesanteur ?

III - Suspension

La Logan est constituée d'une caisse métallique reposant sur ses roues par l'intermédiaire d'une suspension, formée d'un ensemble de quatre ressorts avec amortisseurs. On peut modéliser cette voiture par un pendule élastique vertical dont les oscillations sont amorties. La seule particularité de ce pendule est d'avoir la masse M (correspondant à la caisse) à l'extrémité supérieure du ressort de raideur k ; la mise en oscillation ayant lieu lorsque l'extrémité inférieure du ressort (correspondant à la roue) subit un déplacement vertical, par exemple lors d'un passage sur une bosse (dos d'âne).



1. On considère la caisse de la Logan de masse $M = 1\,095\text{ kg}$ à l'arrêt, sans passager. Le ressort est alors comprimé. On appelle $|\Delta l_0|$ la valeur absolue de la différence entre sa longueur à vide et sa longueur en charge.
 - a) Faire l'inventaire des forces qui s'exercent sur la caisse.
 - b) Trouver la relation entre $|\Delta l_0|$, M , k et g en appliquant le principe d'inertie

2. Quatre essayeurs, de masse totale $m = 280\text{ kg}$, montent à bord de la Logan. La caisse s'affaisse d'une hauteur $h = 3,0 \times 10^{-2}\text{ m}$. La variation de la longueur du ressort en valeur absolue devient : $|\Delta l| = |\Delta l_0| + h$.
 - a) En utilisant le résultat de la question 1.b) établir la relation $k = \frac{m \cdot g}{h}$.
 - b) Déterminer la dimension de k .
 - c) Calculer la valeur numérique de k .

3. On note T_0 la période propre des oscillations de la caisse de la Logan avec un essayeur, de masse $m_1 = 70\text{ kg}$, sans passager. Montrer que $T_0 = 0,71\text{ s}$.

4. Afin que le confort des passagers soit optimal lors du passage sur une bosse, les réglages de la suspension sont prévus pour que la caisse retrouve sa position initiale sans osciller.
 - a) L'essayeur prend le volant d'une Logan neuve et roule sur une bosse. Quel est le nom du régime oscillatoire observé ?
 - b) L'essayeur recommence l'expérience avec une Logan ayant déjà beaucoup roulé. Ses amortisseurs étant « fatigués », l'amortissement de la caisse est moins important. Prévoir le comportement de la caisse dans ce cas en utilisant le vocabulaire adapté.

5. A nouveau au volant de la Logan neuve, l'essayeur, de masse $m_1 = 70\text{ kg}$, aborde maintenant un ralentisseur installé par une municipalité à l'entrée de l'agglomération. Il est constitué d'une série de bosses distantes d'une longueur D . Le pendule élastique qui modélise la voiture est donc soumis à une succession d'excitations : la caisse subit des oscillations forcées. L'essayeur constate que l'amplitude des oscillations est beaucoup plus importante qu'au passage d'une seule bosse, la voiture devient plus difficile à contrôler et le conducteur doit ralentir.
 - a) Quel nom donne-t-on au phénomène observé par l'essayeur ?
 - b) Quelle doit être la période des excitations pour que ce phénomène ait lieu ?
 - c) Cette période est la durée Δt que met la voiture pour passer d'une bosse à l'autre. Calculer la distance D nécessaire pour que le phénomène ait lieu à une vitesse $v = 80\text{ km}\cdot\text{h}^{-1}$
 - d) Ainsi construit, ce ralentisseur devrait obliger les conducteurs trop rapides à ralentir pour respecter la vitesse de $50\text{ km}\cdot\text{h}^{-1}$ en agglomération. Mais y aurait-il un autre moyen d'éviter le phénomène ressenti lors du passage sur le ralentisseur ? Si oui, expliquer.
(On ne tentera pas l'expérience !)

PARTIE B : « L'injecteur par rampe commune »

Malgré les tarifs modérés de la Logan, son moteur Diesel bénéficie d'une technologie de pointe : le système d'injection directe de gazole par rampe commune. L'élément essentiel est l'injecteur qui pulvérise en quelques fractions de seconde une très faible quantité de gazole directement dans la chambre de combustion où se produit l'explosion du mélange air-gazole.

On peut schématiser cet injecteur par un long tube creux, percé à son extrémité inférieure d'un très petit trou bouché par une aiguille. C'est par ce trou que pourra sortir le gazole lorsque l'aiguille sera déplacée vers le haut.

Pour déplacer cette aiguille métallique vers le haut, on utilise une bobine qui, lorsqu'elle est traversée par un courant électrique, se comporte comme un aimant et attire alors l'aiguille à elle. Dès que le courant est coupé, l'aiguille reprend sa position initiale et bouche à nouveau le trou.

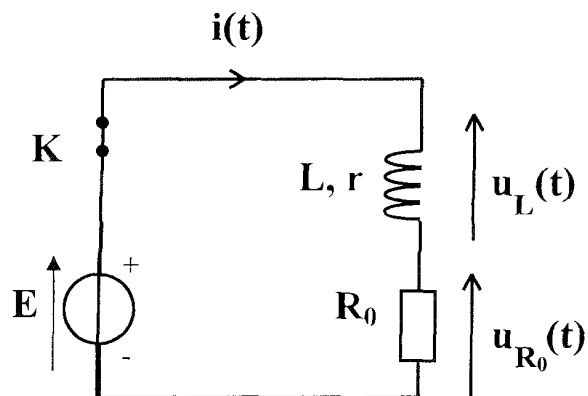
Un laboratoire de recherche d'un constructeur concurrent demande à un technicien d'étudier les caractéristiques de cette bobine.

I - Prévion d'un dipôle bobine-conducteur ohmique :

Pour préparer un protocole d'étude de la bobine de l'injecteur, le technicien choisit d'abord une bobine, d'inductance L et de résistance interne r connues.

Il réalise ensuite le circuit ci-contre où l'interrupteur est au départ fermé.

On rappelle que la tension aux bornes de la bobine est $u_L(t) = L \frac{di}{dt} + r \cdot i$



Données : $E = 6,0 \text{ V}$; $L = 0,94 \text{ H}$;
 $R_0 = 150 \Omega$; $r = 20 \Omega$.

1. L'interrupteur K étant fermé, et le régime permanent établi, l'intensité dans le circuit est constante et notée I_0 .

Montrer que $I_0 = \frac{E}{R_0 + r}$.

2. A l'instant $t_0 = 0$, l'interrupteur est ouvert. On a alors la relation $u_L(t) + u_{R_0}(t) = 0$. Établir l'équation différentielle vérifiée par l'intensité $i(t)$.
3. Le technicien utilise une interface d'acquisition et un capteur de tension pour suivre l'évolution temporelle de la tension $U_{R_0}(t)$, à l'ouverture de l'interrupteur. Un tableur permet alors de calculer le graphe de l'intensité du courant et de tracer le graphe de son évolution temporelle donnée sur la figure 2 de l'annexe page 11.

a) A partir de l'allure de la courbe $i(t)$ de la figure 2, préciser le rôle de la bobine dans ce circuit.

On note $\tau = \frac{L}{R_0 + r}$ la constante de temps de ce circuit.

b) Montrer que τ a la dimension d'un temps.

c) Calculer τ .

d) Mesurer sur le graphique l'intensité $i(\tau)$ pour $t = \tau$.

II - Mesure des caractéristiques de la bobine de l'injecteur

Le technicien utilise maintenant la bobine de l'injecteur afin de déterminer son inductance L' et sa résistance r' .

Il réalise avec cette bobine le circuit de l'étude précédente ($E = 6,0 \text{ V}$; $R_0 = 150 \Omega$) et il effectue une nouvelle acquisition comme à la question I-3.

A l'instant $t_0 = 0$, il ouvre l'interrupteur et obtient le tracé donné sur la Figure 3 en **annexe page 11 à rendre avec la copie.**

A l'aide de l'étude précédente et du graphique de la figure 3, déterminer :

1. La résistance interne r' de la bobine (on rappelle que $I'_0 = \frac{E}{R_0 + r'}$).
2. a) Évaluer graphiquement la constante de temps τ' .
b) Déterminer l'inductance L' de la bobine.

EXERCICE II : teneur en CO₂ d'un vin (3 points)

Le vin est obtenu par fermentation du jus de raisin.

Lors de la fermentation alcoolique, le glucose présent dans le raisin est dégradé en éthanol et en dioxyde de carbone CO₂. Lorsque la vinification est terminée, on détecte généralement dans le vin la présence de CO₂ à raison de 200 à 700 mg par litre.

Pour déterminer la concentration en CO₂ d'un vin, les laboratoires d'œnologie analysent, par spectrophotométrie, les échantillons que leur fournissent les viticulteurs.

A l'aide d'un spectrophotomètre, l'absorbance de cet échantillon est mesurée pour une gamme de longueurs d'onde données (situées de part et d'autre du maximum d'absorption dû à la présence de CO₂). Ces mesures sont ensuite reportées sur un graphe constituant le spectre d'absorption de l'échantillon pour la gamme de longueurs d'onde choisie.

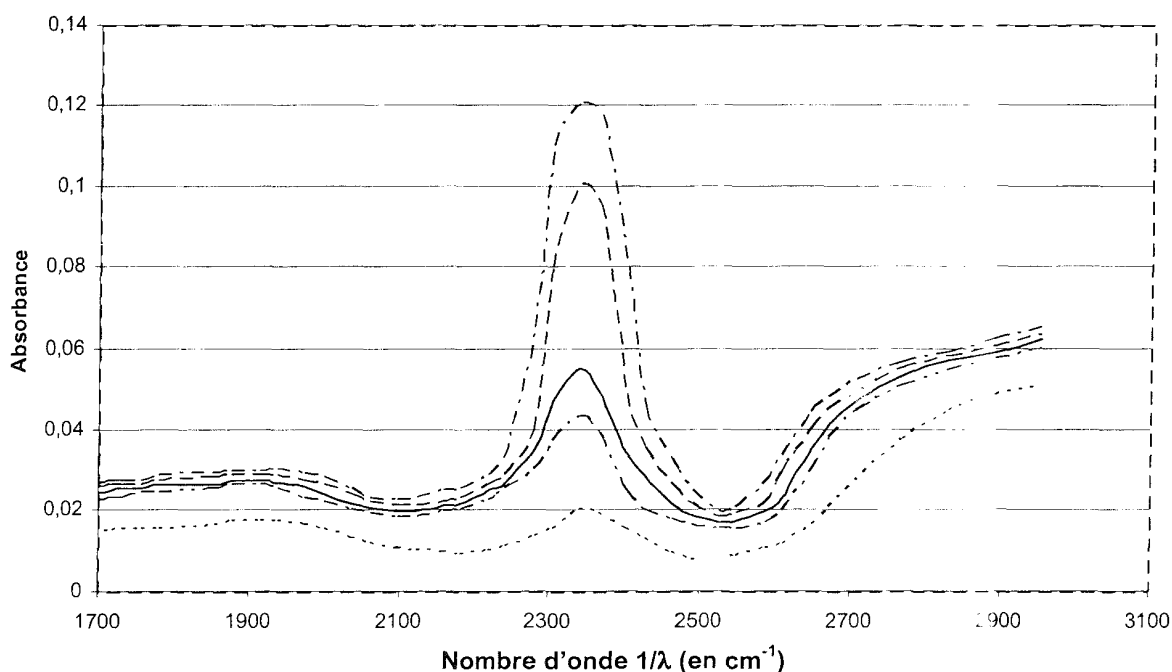
Dans tout cet exercice on considèrera que dans la gamme de longueurs d'onde choisies, seul le CO₂ absorbe.

Un élève cherche à déterminer la concentration en CO₂ d'un échantillon de vin. Il dispose pour cela de quatre autres échantillons de vin de concentrations en CO₂ connues :

Échantillon n° 1	C ₁ = 4,5 mmol.L ⁻¹
Échantillon n° 2	C ₂ = 10,4 mmol.L ⁻¹
Échantillon n° 3	C ₃ = 24,3 mmol.L ⁻¹
Échantillon n° 4	C ₄ = 29,5 mmol.L ⁻¹
Échantillon n° 5	C ₅ à déterminer

Il réalise le spectre d'absorption de chacun de ces échantillons et obtient le graphe de l'absorbance en fonction de l'inverse de la longueur d'onde (le nombre d'onde 1/λ) donné ci-dessous :

Spectre des échantillons n° 1 à 5



Légende : n°1 - - - - n°2 ——— n°5 - - - - n°3 - - - - n°4

1. On se place, pour chaque échantillon, au maximum d'absorption dû au CO_2 .
 - a) Déterminer graphiquement la valeur de l'absorbance pour le maximum d'absorption de chaque échantillon.
 - b) Tracer la courbe d'étalonnage $A = f(C)$ représentant l'absorbance de la solution en fonction de la concentration, en CO_2 de l'échantillon.
 - c) Quelle est l'allure de la courbe tracée à la question 1.b) ? Sans aucun calcul que peut-on en déduire ?

2. La loi de Beer-Lambert, pour des solutions homogènes diluées, a pour expression $A = \varepsilon \cdot L \cdot C$, où C est la concentration molaire de l'espèce absorbante, L la largeur de la cuve (pastille) et ε le coefficient d'extinction molaire de l'espèce absorbante à la longueur d'onde d'étude.
 - a) La courbe obtenue à la question 1.b) vous semble-t-elle en accord avec cette loi ?
 - b) Utiliser cette courbe pour déterminer la valeur du coefficient ε , en unité SI, sachant que $L = 3,5 \cdot 10^{-3}$ m.

3. a) A l'aide de la courbe, $A = f(C)$, déterminer la concentration en CO_2 de l'échantillon inconnu n° 5.
Expliciter clairement la démarche suivie.
 - b) Le vin contenu dans cet échantillon entre-t-il dans la catégorie des vins cités dans le texte (en ce qui concerne sa teneur en CO_2) ?

Données : $M(\text{C}) = 12 \text{ g.mol}^{-1}$ $M(\text{O}) = 16 \text{ g.mol}^{-1}$.

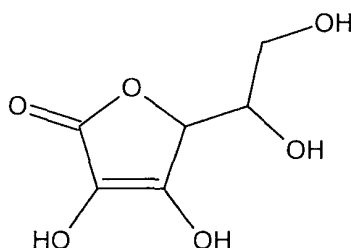
EXERCICE III : Dosages d'une solution d'acide ascorbique (4 points)

L'acide ascorbique ou vitamine C intervient dans diverses réactions d'oxydo-réduction cellulaires. Elle favorise le développement des os, des tendons et des dents.

Présente dans de très nombreux aliments, en particulier dans les produits frais : légumes verts et fruits, elle est synthétisée par presque tous les animaux sauf l'homme, certains singes et certains oiseaux.

De très nombreux oxydants peuvent oxyder l'acide ascorbique, c'est la raison pour laquelle l'acide ascorbique est utilisé comme antioxygène : en réagissant avec le dioxygène, il empêche celui-ci d'oxyder les constituants des aliments. C'est un additif alimentaire indiqué par le code E300.

L'acide ascorbique, ou vitamine C, de formule brute $C_6H_8O_6$, a pour formule topologique :



On désire déterminer la teneur en acide ascorbique d'une solution. Pour cela, on envisage deux méthodes de dosage reposant, pour l'une, sur le caractère acide de la molécule et, pour l'autre, sur son caractère réducteur.

Données :

- Masses molaires atomiques en $g \cdot mol^{-1}$: $M(H) = 1,0$; $M(C) = 12,0$; $M(O) = 16,0$;
- Couples oxydants-réducteurs :
 $I_{2(aq)} / I_{(aq)}$
 $C_6H_6O_6(aq) / C_6H_8O_6(aq)$
 $S_4O_6^{2-(aq)} / S_2O_3^{2-(aq)}$
- Couple acide-base :
 $C_6H_8O_6(aq) / C_6H_7O_6^-(aq)$

I - Dosage acido-basique de la solution d'acide ascorbique

Mode opératoire :

On réalise un dosage pH-métrique de 10,0 mL de la solution d'acide ascorbique $C_6H_8O_6(aq)$ par une solution d'hydroxyde de sodium ou soude ($Na^+_{(aq)} + HO^-_{(aq)}$) de concentration molaire $C_b = 5,0 \times 10^{-4} mol \cdot L^{-1}$.

1. Écrire l'équation de la réaction de dosage.
2. Définir l'équivalence du dosage.
3. A l'aide de la courbe fournie en **annexe page 13 à rendre avec la copie**, déterminer le volume V_E versé à l'équivalence en explicitant la démarche utilisée.
4. Écrire la relation entre les quantités de matière des réactifs à l'équivalence et en déduire la valeur de la concentration molaire de la solution titrée.

II - Dosage par oxydoréduction de la solution d'acide ascorbique

Mode opératoire :

Première étape : oxydation de l'acide ascorbique.

L'acide ascorbique est oxydé par une solution de diiode $I_{2(aq)}$ en excès : on verse dans un erlenmeyer un volume $V_1 = 10,0$ mL de la solution d'acide ascorbique auquel on ajoute un volume $V_2 = 20,0$ mL d'une solution de diiode de concentration $C_2 = 1,0 \times 10^{-3}$ mol.L⁻¹.

Deuxième étape : dosage du diiode en excès.

Le diiode en excès est alors dosé par une solution de thiosulfate de sodium ($2 Na^+_{(aq)} + S_2O_3^{2-}_{(aq)}$), de concentration $C_3 = 2,4 \times 10^{-3}$ mol.L⁻¹, en présence d'empois d'amidon ou de thiodène.

Le volume versé à l'équivalence est $V_E = 12,9$ mL.

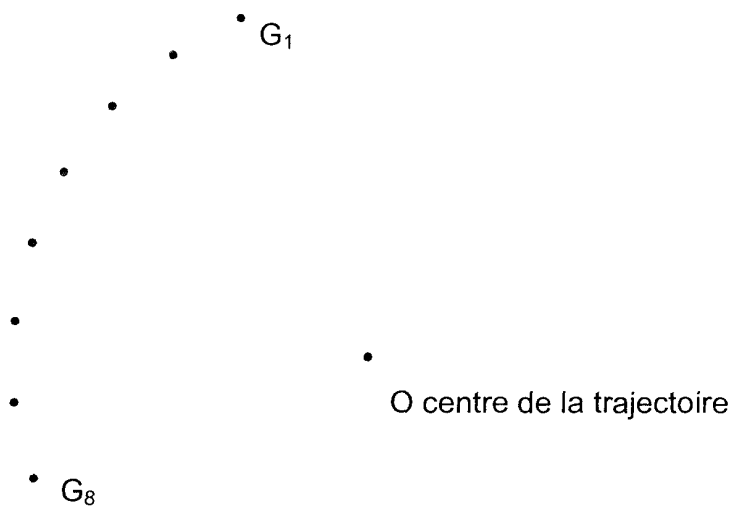
1. Préciser la verrerie à utiliser pour prélever les volumes des réactifs de la première étape.
2. a) Exprimer la quantité de matière initiale de diiode introduite $n_{I_2(initial)}$ dans la première étape.
b) Écrire l'équation de la réaction d'oxydoréduction de cette première étape.
3. a) Écrire l'équation de la réaction d'oxydoréduction de la deuxième étape.
b) En déduire la quantité de matière de diiode $n_{I_2(excès)}$ qui réagit avec la solution de thiosulfate de sodium lors de la deuxième étape. On pourra éventuellement utiliser un tableau d'avancement.
4. a) À partir des réponses aux questions précédentes, établir la relation donnant la quantité de matière d'acide ascorbique dosée : $n_A = C_2 \cdot V_2 - \frac{C_3 \cdot V_E}{2}$.
b) En déduire la concentration molaire de la solution d'acide ascorbique.

III – Conclusion

1. Comparer les résultats obtenus par les deux méthodes de dosage.
2. Calculer la concentration massique en acide ascorbique de la solution titrée.

EXERCICE I : ANNEXE A RENDRE AVEC LA COPIE

Figure 1



échelle : 1,0 cm pour 10 m

EXERCICE I : ANNEXE A RENDRE AVEC LA COPIE

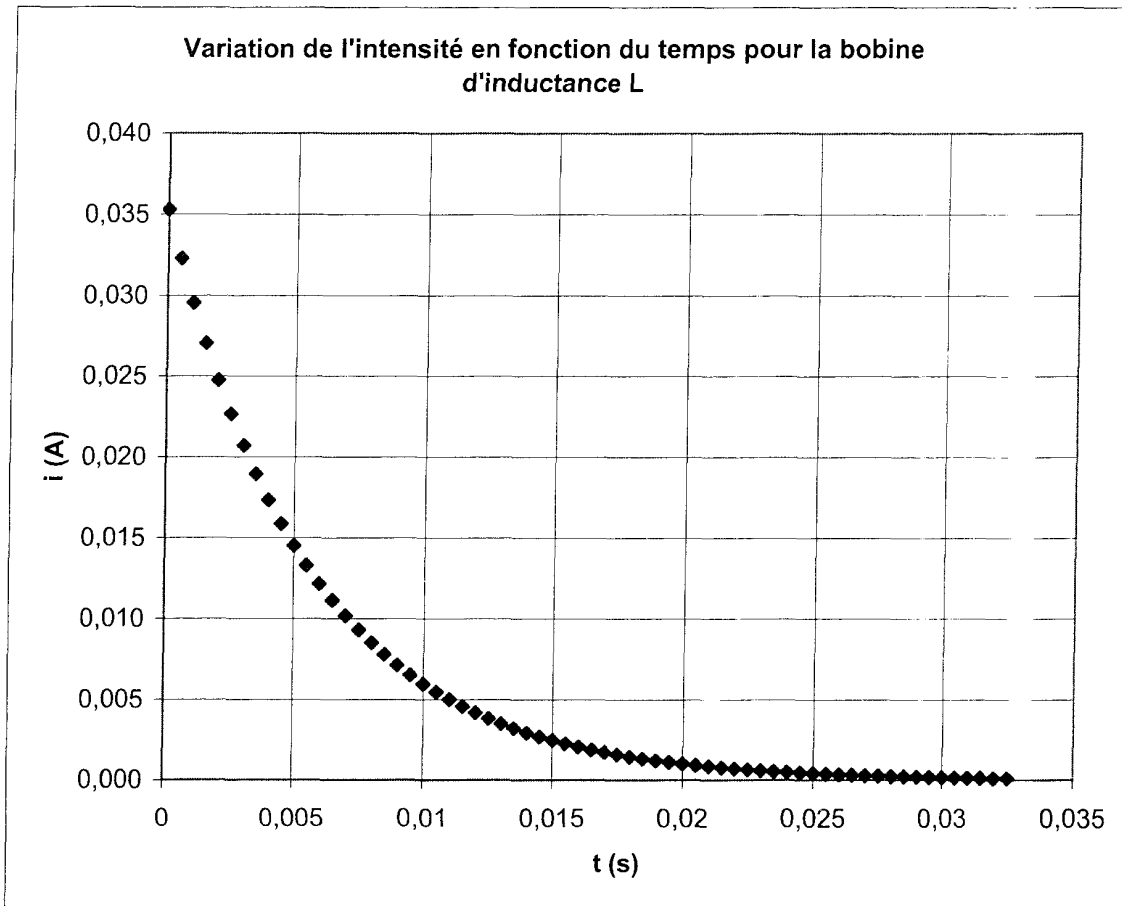


Figure 2

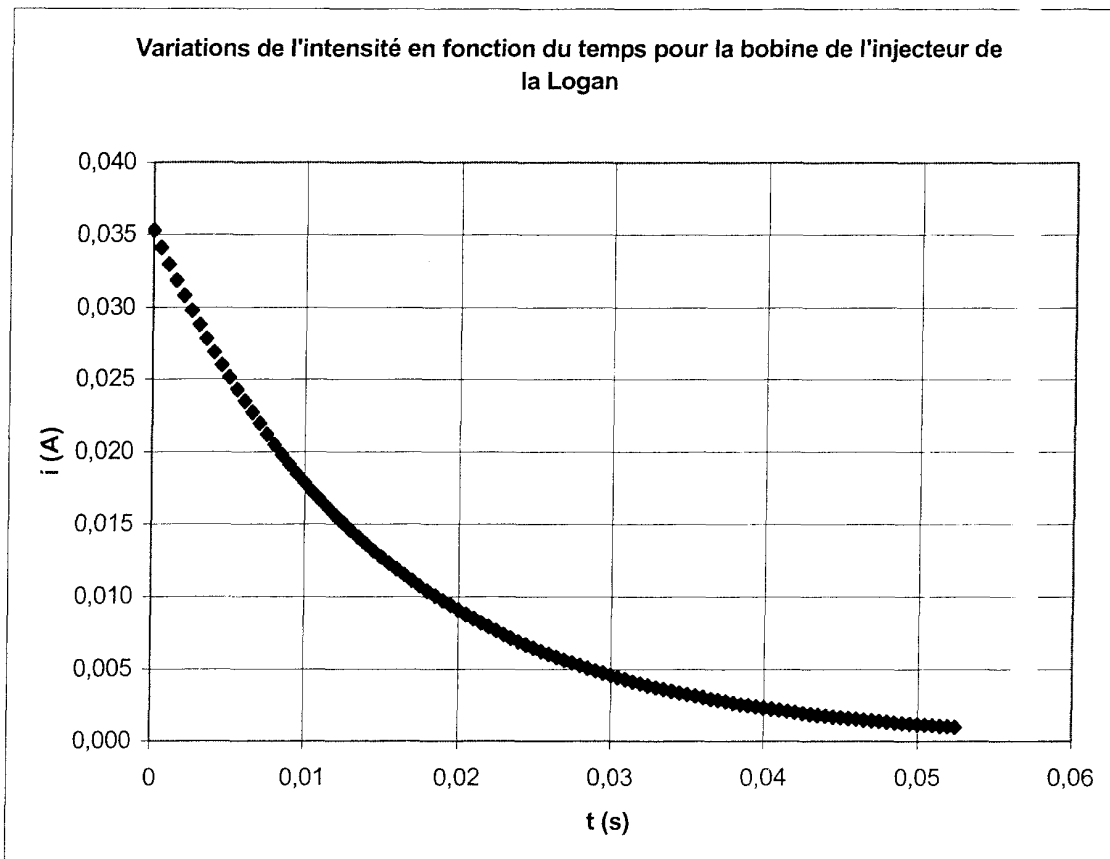


Figure 3

EXERCICE III : ANNEXE A RENDRE AVEC LA COPIE

Courbe $\text{pH} = f(V)$ pour le dosage de l'acide ascorbique par la solution d'hydroxyde de sodium de concentration molaire $C_b = 5,0 \times 10^{-4} \text{ mol.L}^{-1}$.

