

BACCALAURÉAT GÉNÉRAL

SESSION 2013

PHYSIQUE-CHIMIE

Série S

DURÉE DE L'ÉPREUVE : 3 h 30 – COEFFICIENT : 8

L'usage d'une calculatrice EST autorisé

Ce sujet ne nécessite pas de feuille de papier millimétré

Ce sujet comporte trois exercices présentés sur 10 pages numérotées de 1 à 10 y compris celle-ci.

Le candidat doit traiter les trois exercices qui sont indépendants les uns des autres.

EXERCICE I - L'ASCENSEUR SPATIAL (5 points)

Document 1. Présentation de l'ascenseur spatial

L'ascenseur spatial a été envisagé dans les années 1970 comme alternative aux lanceurs classiques de satellites que sont les fusées et navettes spatiales.

Dans certains ouvrages, l'ascenseur culminerait à l'altitude de 36 000 kilomètres au-dessus du sol. Cette hauteur n'est pas due au hasard. En effet, un satellite en orbite équatoriale à cette altitude apparaît immobile au-dessus d'un point de l'équateur : c'est un satellite géostationnaire.

La particularité de l'orbite géostationnaire suggère une façon de relier le sol et l'espace : il suffit de laisser pendre un câble d'un satellite géostationnaire. Ce dernier restera toujours à l'aplomb du même point de la surface terrestre d'où l'on pourra construire une base de départ de cabines qui escaladeront le câble, transportant des satellites directement jusqu'à l'orbite géostationnaire en quelques jours, environ cinq selon certaines hypothèses retenues.

Et inversement les satellites en fin de vie pourraient être redescendus par l'ascenseur et récupérés sur Terre.

Comment déployer le câble depuis l'espace ? La réponse semble simple : il suffit de dérouler une bobine de câbles préalablement mise en orbite géostationnaire.



Dessin d'artiste représentant un ascenseur spatial

Mais il y a un problème. Sur la partie basse du câble l'attraction terrestre dépasse la force centrifuge due à son mouvement de rotation autour de la Terre. Conséquence : le câble est irrémédiablement tiré vers la Terre et ne peut maintenir sa position initiale. Pour pallier ce problème, il suffit de déployer le câble simultanément dans deux directions opposées, c'est-à-dire vers la Terre et vers l'espace.

Dans ce cas, l'astuce consiste à ce que la partie supérieure du câble « retienne » la partie inférieure.

L'ascenseur spatial permettrait aussi d'utiliser l'énergie de rotation de la Terre pour lancer des sondes depuis l'orbite géostationnaire vers des orbites plus hautes. La vitesse orbitale tout en haut de l'ascenseur serait si grande qu'un satellite qui y serait largué n'aurait pas besoin de moteur pour échapper à l'attraction terrestre. Vénus, Mars, Jupiter et même la sortie du système solaire seraient accessibles sans énergie supplémentaire que celle requise pour atteindre l'orbite géostationnaire.

D'après "The orbital tower : a spacecraft launcher using the Earth's rotational energy", article original de Jérôme PEARSON en 1975 et <http://blog.belial.fr/post/2010/04/18/Ascenseur-vers-l-espace>, article de R. LEHOUCQ

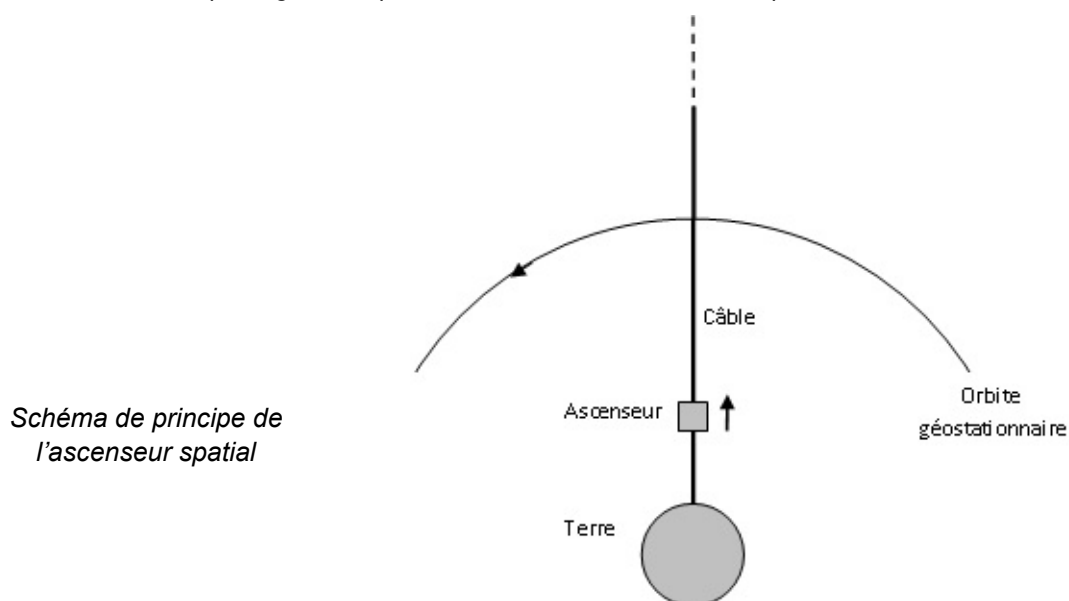
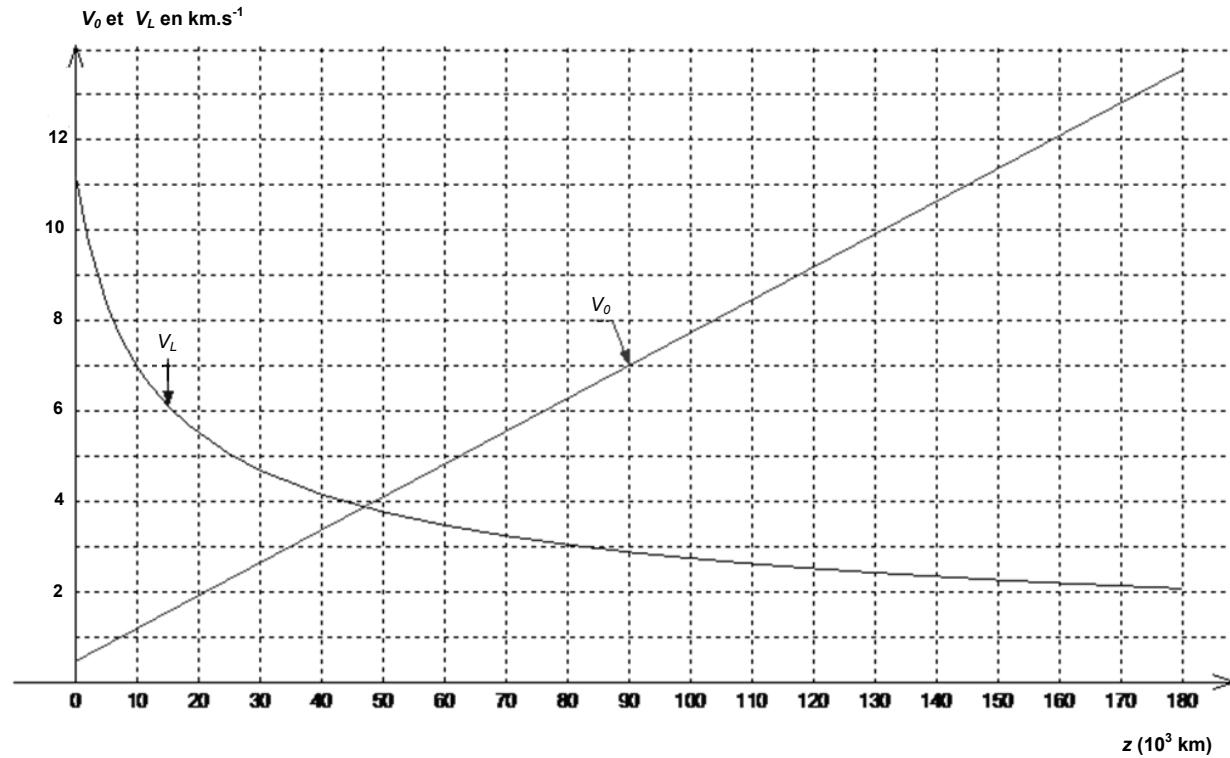


Schéma de principe de l'ascenseur spatial

Document 2. Vitesse de libération et vitesse orbitale

Vitesse de libération V_L : vitesse minimale à communiquer à un projectile non motorisé dans le référentiel géocentrique (référentiel lié au solide imaginaire contenant le centre de la Terre et 3 étoiles éloignées) pour qu'il puisse s'échapper de l'attraction terrestre. Elle dépend de son altitude initiale z .

Vitesse orbitale V_O d'un point de l'ascenseur spatial : vitesse, par rapport au référentiel géocentrique, qu'il possède sur son orbite dans une direction perpendiculaire au fil de l'ascenseur.



Graphe représentant la vitesse de libération V_L et la vitesse orbitale V_O d'un point de l'ascenseur spatial (en km.s^{-1}) en fonction de l'altitude z .

1. Pourquoi utiliser un satellite géostationnaire pour ce projet ?

1.1. À partir des documents et sans faire de calcul, définir un satellite géostationnaire puis donner les valeurs de sa vitesse et de sa période dans le référentiel terrestre et dans le référentiel géocentrique.

1.2. Dans le référentiel géocentrique, supposé galiléen, le satellite géostationnaire a une trajectoire circulaire. À partir de la deuxième loi de Kepler (ou des aires), montrer que le mouvement de ce satellite est uniforme.

1.3. En faisant référence à la question précédente, donner la direction et le sens du vecteur accélération du satellite géostationnaire dans le référentiel géocentrique. Montrer que ces résultats sont en conformité avec la deuxième loi de Newton.

1.4. Établir l'expression de la vitesse v du satellite géostationnaire dans le référentiel géocentrique en fonction de sa période $T_{\text{Géo}}$, du rayon de la Terre R_T ($R_T = 6,4 \times 10^3$ km) et de son altitude h puis calculer sa valeur.

1.5. D'après le texte, que faut-il « rajouter » à un satellite géostationnaire pour réaliser un ascenseur spatial ? Pour quelle raison est-il essentiel de placer un satellite à 36 000 km ?

2. L'ascenseur spatial

2.1. Sans souci d'échelle, représenter sur un schéma :

- la Terre de rayon équatorial $R_T = 6,4 \times 10^3$ km ;
- le satellite géostationnaire en orbite à l'altitude h de « 36 000 km » ;
- le câble reliant le satellite géostationnaire à la Terre ;
- la cabine de l'ascenseur à une altitude $h' = 20\,000$ km ;
- le vecteur vitesse ascensionnelle \vec{V}_A de la cabine le long du fil ainsi que son vecteur vitesse orbitale \vec{V}_O .

2.2. Un point de l'ascenseur spatial situé à l'altitude z possède dans le référentiel géocentrique la vitesse orbitale $V_O(z) = \frac{2\pi(R_T + z)}{T_{Géo}}$. Montrer que cette expression est cohérente avec l'allure de la courbe de la vitesse orbitale présentée dans le document 2.

2.3. En faisant référence au document 1, calculer la valeur de sa vitesse moyenne ascensionnelle.

2.4. Comparer la vitesse moyenne ascensionnelle à la vitesse orbitale à l'altitude h' .

2.5. « La vitesse tout en haut de l'ascenseur serait si grande qu'un satellite qui y serait largué n'aurait pas besoin de moteur pour échapper à l'attraction terrestre ».

2.5.1. Estimer l'altitude minimale de l'ascenseur spatial pour que le satellite s'échappe de l'attraction terrestre.

2.5.2. Estimer l'énergie cinétique à communiquer à un satellite de masse $m = 1,5 \times 10^3$ kg, en orbite géostationnaire, pour qu'il s'échappe de l'attraction terrestre. Comment cette énergie peut-elle lui être communiquée ?

EXERCICE II - AUTOUR DE L'ASPARTAME (10 points)

L'aspartame est un édulcorant artificiel découvert en 1965. C'est un dipeptide obtenu par réaction de l'acide aspartique et d'un dérivé de la phénylalanine, deux acides aminés.

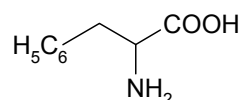
Les parties 1, 2 et 3 sont indépendantes.

1. La phénylalanine et l'acide aspartique

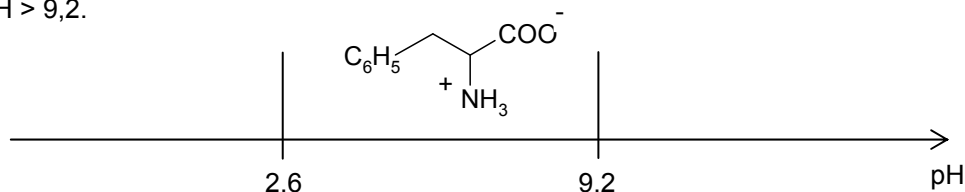
1.1. La phénylalanine

La phénylalanine est un acide aminé essentiel : il doit être apporté par l'alimentation car l'organisme est incapable de le synthétiser.

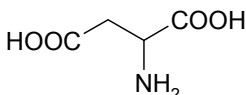
La formule de la phénylalanine est :



- 1.1.1. Recopier la formule de la phénylalanine puis entourer et nommer les groupes fonctionnels présents dans la molécule.
- 1.1.2. Identifier l'atome de carbone asymétrique. Comment peut-on alors qualifier une telle molécule ?
- 1.1.3. Donner les représentations de Cram des deux énantiomères de la phénylalanine.
- 1.1.4. Les acides aminés sont des molécules ayant des propriétés à la fois acides et basiques. La forme prédominante de la phénylalanine dépend alors du pH.
Recopier la figure ci-dessous et indiquer les structures des espèces qui prédominent à $\text{pH} < 2,6$ et $\text{pH} > 9,2$.



1.2. L'acide aspartique

La formule de l'acide aspartique est : 

On s'intéresse au spectre de RMN du proton de l'acide aspartique.

Le tableau ci-dessous donne les déplacements chimiques de quelques noyaux d'hydrogène. L'hydrogène concerné est indiqué en caractère gras.

Type de proton	δ (ppm)
R- CH ₂ -CO-R'	2,0 – 4,0
R-COOH	9,5 – 13
R-NH ₂	1,0 – 5,0

Le spectre de RMN de l'acide aspartique présente les signaux suivants :

- singulet large à 11 ppm, intégration 2 ;
- triplet à 3,8 ppm, intégration 1 ;
- doublet à 2,7 ppm, intégration 2 ;
- singulet très large à environ 2 ppm, intégration 2.

1.2.1. Attribuer les signaux observés à chaque hydrogène (ou groupes d'hydrogènes équivalents) de la molécule d'acide aspartique.

1.2.2. Interpréter la multiplicité des pics pour le triplet à 3,8 ppm.

2. Synthèse d'un dérivé de la phénylalanine

La littérature scientifique permet d'obtenir les informations suivantes :

Document 1. Protocoles de synthèse du dérivé de la phénylalanine

Protocole n°1. Utilisation du triméthylchlorosilane

On introduit dans un ballon 10 g de phénylalanine. On additionne lentement, tout en agitant, 15 mL de triméthylchlorosilane. Un volume de 60 mL de méthanol est ensuite ajouté au mélange qui est agité pendant 12 heures à température ambiante. On procède à l'évaporation du solvant afin d'obtenir le produit souhaité. Le rendement de la synthèse est de 96%.





Protocole n°2. Utilisation du chlorure de thionyle

Dans un ballon, 10 g de phénylalanine sont mis en suspension avec 100 mL de méthanol. Sous agitation magnétique, le mélange réactionnel est refroidi à l'aide d'un bain d'eau glacée puis 6 mL de chlorure de thionyle sont ajoutés goutte à goutte. Le mélange est maintenu 24 heures sous agitation à température ambiante. Après évaporation du solvant, le produit obtenu est recristallisé dans un mélange d'éthanol et d'acétate d'éthyle. Le rendement de la synthèse est de 97%.

Protocole n°3. Utilisation de l'acide sulfurique

On introduit dans un ballon 15 g de phénylalanine, 27 mL de méthanol et 5 mL d'acide sulfurique. Le ballon est placé, sous agitation, dans un bain d'eau à 85°C pendant 4 heures. Un volume de 125 mL de méthanol est ajouté goutte à goutte au mélange par l'intermédiaire d'une ampoule de coulée. Simultanément, l'excès de méthanol est retiré du mélange. Après 4 heures, on traite l'huile obtenue. Le rendement de la synthèse est de 67%.

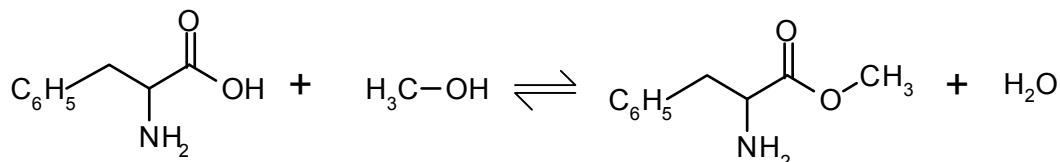
Document 2. Informations concernant différentes espèces chimiques

	Pictogramme	Mentions de danger	Tarif en 2012
Phénylalanine			16,90 € les 25 g
Méthanol		Liquide et vapeurs très inflammables. Toxique en cas d'ingestion. Toxique par contact cutané. Toxique par inhalation. Risque avéré d'effets graves pour les organes.	10,90 € le litre
Triméthylchlorosilane		Liquide et vapeurs très inflammables. Nocif par contact cutané. Provoque des brûlures de la peau et des lésions oculaires graves. Toxique par inhalation. Peut irriter les voies respiratoires.	23,30 € les 100 mL
Chlorure de thionyle		Nocif par inhalation. Nocif en cas d'ingestion. Provoque des brûlures de la peau et des lésions oculaires graves. Peut irriter les voies respiratoires.	22,90 € les 100 mL
Acide sulfurique		Provoque des brûlures de la peau et des lésions oculaires graves.	8,80 € le litre

2.1. À l'aide des documents, dégager l'(es) avantage(s) et l'(es) inconvénient(s) de chacun des trois protocoles proposés. Consigner les réponses dans un tableau.

On se propose de préparer au laboratoire l'ester méthylique de la phénylalanine en adaptant le **protocole n°3** au matériel disponible au laboratoire.

L'équation de la réaction est donnée ci-dessous :



Protocole retenu :

On introduit dans un ballon une masse $m = 16,5$ g de phénylalanine et un volume $V = 40$ mL de méthanol.

On ajoute quelques millilitres d'une solution aqueuse concentrée d'acide sulfurique.

On chauffe à reflux pendant quatre heures puis on laisse revenir le mélange à température ambiante.

Une solution d'hydrogénocarbonate de sodium est ensuite versée dans le ballon afin de neutraliser les acides présents dans le milieu réactionnel.

Le mélange est placé dans une ampoule à décanter et l'ester est extrait par du dichlorométhane.

La phase organique est recueillie, lavée et séchée sur du sulfate de sodium anhydre. Après filtration et évaporation du dichlorométhane, on recueille une masse $m' = 11,4$ g d'ester.

Données :

➤ Masses molaires :

	Phénylalanine	Méthanol	Ester méthylique de la phénylalanine
Masse molaire ($\text{g}\cdot\text{mol}^{-1}$)	165	32	179

➤ Masses volumiques :

	Eau	Méthanol	Dichlorométhane
Masse volumique ($\text{g}\cdot\text{mL}^{-1}$)	1,0	0,79	1,3

➤ Comparaison des électronégativités : $\chi(\text{O}) > \chi(\text{C})$

2.2. Protocole expérimental

2.2.1. En analysant la nature des réactifs utilisés, quelles sont les précautions opératoires à respecter impérativement pour mettre en œuvre ce protocole ?

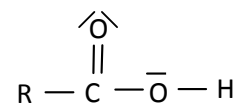
2.2.2. La réaction d'estérification est une réaction lente. Comment, dans ce protocole, la transformation chimique a-t-elle été accélérée ?

2.2.3. Dans le cas précis de cette synthèse, justifier l'impossibilité d'évaluer la durée de cette transformation chimique par un suivi par chromatographie sur couche mince.

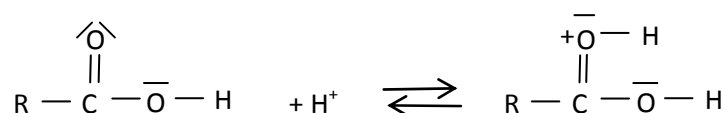
2.2.4. Évaluer le rendement de cette synthèse organique en expliquant la démarche suivie.

2.3. Mécanisme réactionnel

On utilisera la formule simplifiée ci-contre pour la molécule de phénylalanine.



La première étape du mécanisme réactionnel, reproduite ci-dessous, permet d'illustrer le rôle des ions H^+ dans la synthèse de l'ester méthylique.



Une fois fixés, les ions H^+ permettent d'augmenter le caractère accepteur de doublets d'électrons d'un des atomes de la liaison $\text{C}=\text{O}$ ce qui augmente la vitesse de la réaction à l'échelle macroscopique.

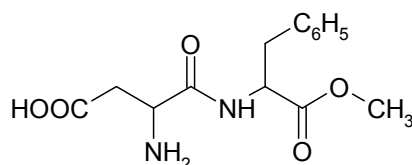
- 2.3.1. Quelle espèce chimique introduite dans le milieu réactionnel permet d'apporter les ions H^+ nécessaires ?
- 2.3.2. Représenter sur votre copie la formule simplifiée de la molécule obtenue à l'issue de la première étape et localiser l'atome accepteur de doublets d'électrons de la liaison $C=O$.
- 2.3.3. Reproduire sur votre copie la première étape du mécanisme réactionnel et relier par une flèche courbe les sites donneur et accepteur d'électrons afin d'expliquer la formation de la nouvelle liaison.

3. Synthèse de l'aspartame

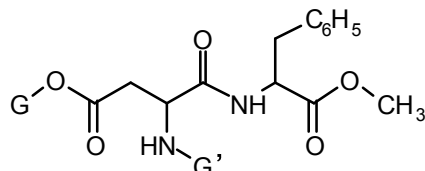
Le groupe amino réagit avec le groupe carboxyle selon l'équation suivante :



Ainsi l'acide aspartique et l'ester méthylique de la phénylalanine réagissent entre eux pour former l'aspartame dont la formule est donnée ci-dessous :



- 3.1. Donner le nom du groupe caractéristique qui a été créé lors de la synthèse de l'aspartame.
- 3.2. Lorsque l'on analyse le milieu réactionnel obtenu à la fin de la synthèse par une chromatographie sur couche mince (CCM), on observe plusieurs taches à des hauteurs différentes de celles des réactifs. Sachant que l'eau n'apparaît pas sur la plaque de chromatographie, proposer une explication à ce constat expérimental.
- 3.3. Écrire la formule semi-développée d'une molécule autre que l'aspartame présente dans le milieu réactionnel à la fin de la synthèse.
- 3.4. Pour synthétiser l'aspartame, la stratégie de synthèse consiste à protéger le groupe NH_2 et l'un des deux groupes $COOH$ de l'acide aspartique à l'aide d'un groupe protecteur noté G' ou G . L'acide aspartique protégé réagit alors avec le dérivé de la phénylalanine protégé pour donner la molécule suivante :



- 3.4.1. Écrire la formule semi-développée de l'acide aspartique protégé.
- 3.4.2. Que faut-il faire ensuite pour obtenir l'aspartame à partir de ce dérivé ? (aucune écriture de réaction chimique n'est demandée)
- 3.5. En utilisant le tableau ci-dessous et votre sens critique, expliquer s'il est judicieux d'utiliser la spectroscopie infrarouge pour s'assurer de l'obtention d'aspartame au regard de la nature des liaisons formées ou rompues au cours de la transformation chimique.

Table des nombres d'onde

Liaison	Nombre d'onde (cm^{-1})	Intensité F : fort ; m : moyen	Espèce
N-H	3300-3500	m (2 bandes)	Amine primaire
N-H		m (1 bande)	Amine secondaire
N-H	3100-3500	F	Amide
$C_{tet}-H$	2850-3000 et 1430-1480	F	Alcane
O-H	2500-3200	F à m (large)	Acide carboxylique
$C_{tri}=O$	1700-1725	F	Acide carboxylique
$C_{tri}=O$	1735-1750	F	Ester
$C_{tri}=O$	1630-1700	F	Amide

C_{tet} : carbone tétravalent

C_{tri} : carbone trivalent

EXERCICE III - La quête du GRAVE

L'histoire de la contrebasse remonte à la création de la famille des violons au XVI^{ème} siècle en Italie. La recherche d'instruments à cordes avec ce timbre particulier mais capable de jouer des notes plus graves a conduit à l'élaboration de la contrebasse puis de l'octobasse. En 2010 l'atelier de lutherie de Mirecourt de J.J. Pagès a reproduit à l'identique l'octobasse.

L'objectif de cet exercice est de répondre au problème que se pose le luthier : comment peut-il produire des notes de plus en plus graves avec l'instrument qu'il fabrique, l'octobasse ?



Pour répondre aux questions suivantes, vous vous aiderez des documents 1 à 3 page 10.

Résolution de problème

Questions préalables

- Donner la relation liant la fréquence f du mode de vibration fondamental, la longueur de la corde L et la célérité v de l'onde sur la corde. Montrer que cette relation peut s'écrire : $f = \frac{1}{2L} \sqrt{\frac{T}{\mu}}$.
- Le son le plus grave de la contrebasse jouant à vide est un mi_0 . La longueur de la corde émettant cette note vaut $L_0 = 1,05$ m. On souhaite construire une octobasse qui puisse émettre la note do_{-1} . En faisant l'hypothèse que l'octobasse possède une corde de même masse linéique et de même tension que la corde « mi_0 » de la contrebasse, que peut-on dire de la longueur de la corde L_{-1} de l'octobasse nécessaire pour émettre la note do_{-1} . À quelle difficulté se trouve confronté le luthier ?

Problème

En s'affranchissant de l'hypothèse précédente, quelle(s) solution(s) technique(s) le luthier peut-il proposer pour que, en respectant le cahier des charges (document 3), une même corde de l'octobasse puisse émettre un do_{-1} et aussi un $ré_{-1}$?

Remarques :

L'analyse des données ainsi que la démarche suivie sont évaluées et nécessitent d'être correctement présentées. Les calculs numériques seront menés à leur terme avec rigueur.

Document 1. Quelques informations

Une corde de longueur L vibrant dans son mode fondamental vérifie la relation :

$$L = \frac{\lambda}{2} \text{ avec } \lambda : \text{longueur d'onde de la vibration de la corde.}$$

La célérité v de l'onde sur la corde est liée à la tension T imposée à la corde et à sa masse linéique μ par la relation :

$$v = \sqrt{\frac{T}{\mu}} \text{ avec } T \text{ en N et } \mu \text{ en kg.m}^{-1}$$

Le domaine du spectre audible pour l'homme va de 20 Hz à 20 kHz.

Document 2. Fréquences de quelques notes dans la gamme tempérée

Fréquences des notes (Hz)			
Numéro d'octave	-1	0	1
do (ut)	16,3	32,7	65,4
ré	18,3	36,7	73,4
mi	20,6	41,2	82,4
fa	21,8	43,6	87,3
sol	24,5	49,0	98,0
la	27,5	55,0	110
si	30,9	61,7	123

Les cordes d'un instrument sont nommées d'après la note qu'elles émettent dans le mode fondamental, quand elles sont pincées à vide.

Document 3. Cahier des charges de l'octobasse d'après le luthier

L'octobasse possède 3 cordes jouant respectivement les notes do_{-1} , sol_{-1} et do_0 et sa taille est d'environ 4 m. La longueur des cordes est de 2,18 m (longueur à vide). L'instrument est si grand que le musicien doit monter sur un escabeau pour frotter les cordes avec un archer. Le musicien peut manipuler, à l'aide de manettes, sept doigts métalliques qui réduisent la longueur des cordes pour jouer les différentes notes.

