

*La houle est un train de vagues régulier généré par un vent soufflant sur une grande étendue de mer sans obstacle, le fetch. En arrivant près du rivage, sous certaines conditions, la houle déferle au grand bonheur des surfeurs !*

Les documents utiles à la résolution sont rassemblés à la fin de l'exercice.

**Donnée** : intensité de la pesanteur :  $g = 9,8 \text{ m.s}^{-2}$ .

### 1. La houle, onde mécanique progressive

- 1.1. Pourquoi peut-on dire que la houle est une onde mécanique progressive ?
- 1.2. Il est possible de simuler la houle au laboratoire de physique avec une cuve à ondes en utilisant une lame vibrante qui crée à la surface de l'eau une onde progressive sinusoïdale de fréquence  $f = 23 \text{ Hz}$ . On réalise une photographie du phénomène observé (**document 1**).  
Déterminer, en expliquant la méthode utilisée, la vitesse de propagation  $v$  de l'onde sinusoïdale générée par le vibreur.
- 1.3. Au large de la pointe bretonne, à une profondeur de 3000 m, la houle s'est formée avec une longueur d'onde de 60 m.  
En utilisant le **document 2**, calculer la vitesse de propagation  $v_1$  de cette houle. En déduire sa période  $T$ .
- 1.4. Arrivée de la houle dans une baie.
  - 1.4.1. Sur la photographie aérienne du document 3, quel phénomène peut-on observer ? Quelle est la condition nécessaire à son apparition ?
  - 1.4.2. Citer un autre type d'onde pour laquelle on peut observer le même phénomène.

### 2. Surfer sur la vague

La houle atteint une côte sablonneuse et rentre dans la catégorie des ondes longues.

- 2.1. Calculer la nouvelle vitesse de propagation  $v_2$  de la houle lorsque la profondeur est égale à 4,0 m, ainsi que sa nouvelle longueur d'onde  $\lambda_2$ . Les résultats obtenus sont-ils conformes aux informations données dans le **document 4** ?
- 2.2. Pour la pratique du surf, la configuration optimale est :
  - à marée montante c'est-à-dire entre le moment de basse mer et celui de pleine mer ;
  - avec une direction du vent venant du Sud-Ouest.

Un surfeur consulte au préalable un site internet qui lui donne toutes les prévisions concernant le vent, la houle et les horaires des marées (**document 5**).

Proposer en justifiant, un créneau favorable à la pratique du surf entre le jeudi 21 et le samedi 23 juin 2012.


2.3. Un autre phénomène très attendu par les surfeurs, lors des marées importantes est le mascaret.

Le mascaret est une onde de marée qui remonte un fleuve. Cette onde se propage à une vitesse  $v$  de l'ordre de  $5,1 \text{ m.s}^{-1}$ .

Le passage du mascaret étant observé sur la commune d'Arcins à 17h58, à quelle heure arrivera-t-il à un endroit situé à une distance  $d = 13 \text{ km}$  en amont du fleuve ?

### DOCUMENTS DE L'EXERCICE III

**Document 1 :** Simulation de la houle au laboratoire avec une cuve à ondes.



**Document 2 :** Vitesse de propagation des ondes à la surface de l'eau.

- cas des ondes dites « courtes » (en eau profonde) :

longueur d'onde  $\lambda$  faible devant la profondeur  $h$  de l'océan ( $\lambda < 0,5 h$ )

$$v = \sqrt{\frac{g\lambda}{2\pi}}$$

- cas des ondes dites « longues » (eau peu profonde) :


longueur d'onde  $\lambda$  très grande devant la profondeur de l'océan ( $\lambda > 10h$ )

$$v = \sqrt{gh}$$

$g$  est l'intensité du champ de pesanteur terrestre.

D'après <http://ifremer.fr/>

**Document 3 :** Photographie aérienne de l'arrivée de la houle dans une baie.



**Document 4 : Déferlement des vagues sur la côte**

En arrivant près de la côte, la houle atteint des eaux peu profondes. Dès que la profondeur est inférieure à la moitié de la longueur d'onde, les particules d'eau sont freinées par frottement avec le sol. La houle est alors ralentie et sa longueur d'onde diminue. Ces modifications des caractéristiques de l'onde s'accompagnent d'une augmentation d'amplitude. La période est la seule propriété de l'onde qui ne change pas à l'approche de la côte.

Ainsi en arrivant près du rivage, la vitesse des particules sur la crête est plus importante que celle des particules dans le creux de l'onde, et lorsque la crête n'est plus en équilibre, la vague déferle.

D'après <http://ifremer.fr/>

**Document 5 : Prévisions maritimes.**

<b>GFS</b> 21.06.2012 00 UTC	Je 21 05h	Je 21 08h	Je 21 11h	Je 21 14h	Je 21 17h	Je 21 20h	Ve 22 05h	Ve 22 08h	Ve 22 11h	Ve 22 14h	Ve 22 17h	Ve 22 20h	Sa 23 05h	Sa 23 08h	Sa 23 11h	Sa 23 14h	Sa 23 17h	Sa 23 20h
Vitesse du vent (noeuds)	4	7	16	23	21	21	17	15	15	15	15	12	10	10	10	13	14	15
Rafales (noeuds)	5	10	25	28	28	28	23	21	18	19	18	15	13	13	12	15	18	21
Direction du vent	↗	↑	↑	↗	→	→	→	→	→	→	→	→	↗	↗	↗	↗	↗	↗
Vagues (m)	0.7	0.7	0.9	1.3	1.7	2.1	2.6	2.6	2.6	2.4	2.3	2.2	1.8	1.7	1.6	1.5	1.4	1.3
Période des vagues (s)	6	7	4	6	6	6	7	8	8	8	8	8	8	7	7	7	7	7
Direction des vagues	→	→	↗	↗	→	→	→	→	→	→	→	→	→	→	→	→	→	→
*Température (°C)	13	14	14	14	15	14	14	14	15	15	15	14	13	14	15	16	16	15

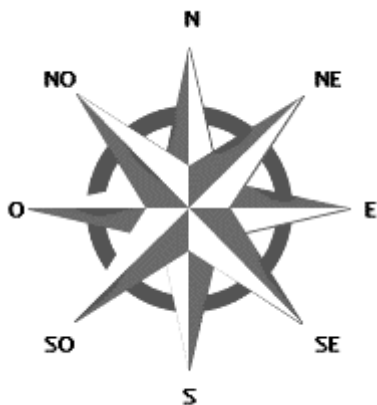


Tableau des marées – Juin 2012

Jour	Pleine mer (h :min)		Basse mer (h :min)	
	Jeudi 21 juin	06 :54	19 :08	00 :58
Vendredi 22 juin	07 :31	19 :44	01 :34	13 :46
Samedi 23 juin	08 :08	20 :22	02 :10	14 :24
Dimanche 24 juin	08 :47	21 :02	02 :49	15 :04

D'après <http://www.windguru.cz/fr/>